

注意事項 2

問題冊子に数字の入った \square があります。それらの数字は解答用紙の解答欄の番号を表しています。対応する番号の解答欄の 0 から 9 までの数字または - (マイナスの符号) をマークしてください。

\square が 2 個以上つながったとき、数は右詰めで入れ、左の余った空欄には 0 を入れてください。負の数の場合には、マイナスの符号を先頭の \square に入れてください。

$$(例) \quad 12 \quad \longrightarrow \quad \boxed{0} \boxed{1} \boxed{2}$$

$$-3 \quad \longrightarrow \quad \boxed{-} \boxed{0} \boxed{3}$$

分数は約分した形で解答してください。マイナスの符号は分母には使えません。

$$(例) \quad \frac{4}{8} \quad \longrightarrow \quad \frac{1}{2} \quad \longrightarrow \quad \frac{\boxed{0} \boxed{1}}{\boxed{0} \boxed{2}}$$

$$-\frac{6}{9} \quad \longrightarrow \quad -\frac{2}{3} \quad \longrightarrow \quad \frac{\boxed{-} \boxed{2}}{\boxed{0} \boxed{3}}$$

ルート記号の中は平方因子を含まない形で解答してください。

$$(例) \quad \sqrt{50} \quad \longrightarrow \quad \boxed{0} \boxed{5} \sqrt{\boxed{0} \boxed{2}}$$

$$-\sqrt{24} \quad \longrightarrow \quad \boxed{-} \boxed{2} \sqrt{\boxed{0} \boxed{6}}$$

$$\sqrt{13} \quad \longrightarrow \quad \boxed{0} \boxed{1} \sqrt{\boxed{1} \boxed{3}}$$

数式については、つぎの例のようにしてください。分数式は約分した形で解答してください。

$$(例) \quad -a^2 - 5 \quad \longrightarrow \quad \boxed{-} \boxed{1} a^2 + \boxed{0} \boxed{0} a + \boxed{-} \boxed{5}$$

$$\frac{4a}{2a-2} \quad \longrightarrow \quad \frac{-2a}{1-a} \quad \longrightarrow \quad \frac{\boxed{0} \boxed{0} + \boxed{-} \boxed{2} a}{1 - \boxed{0} \boxed{1} a}$$

選択肢の番号を選ぶ問題では、同じ選択肢を何回選んでもかまいません。

数学 - I

0 から 5 までの番号のついた箱 0, 箱 1, ..., 箱 5 がある. 箱 1 と箱 2 には玉が 1 つずつ入っているが, 他の箱には玉は入っていない. いま, 1 から 6 の目のついた 2 個のサイコロを振り, 出た目の差の絶対値と同じ番号のついた箱の中身を確認し, 玉が入っていた場合にはその玉を取り出す操作について考える.

(1) この操作を 1 回行うとき, 箱 2 の玉が取り出される確率は $\frac{\begin{array}{|c|c|} \hline (1) & (2) \\ \hline \end{array}}{\begin{array}{|c|c|} \hline (3) & (4) \\ \hline \end{array}}$ である.

(2) この操作を 2 回繰り返すとき, 箱 1 の玉と箱 2 の玉の少なくとも 1 つが取り出される確率は $\frac{\begin{array}{|c|c|} \hline (5) & (6) \\ \hline \end{array}}{\begin{array}{|c|c|} \hline (7) & (8) \\ \hline \end{array}}$ である.

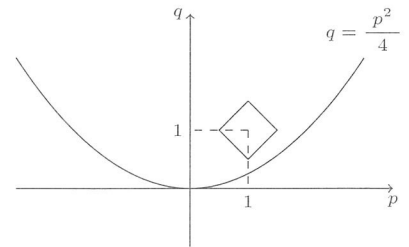
(3) 箱 1 と箱 2 の玉が両方とも取り出されるまで操作を繰り返すとき, その操作が 3 回で終わる確率は $\frac{\begin{array}{|c|c|c|} \hline (9) & (10) & (11) \\ \hline \end{array}}{\begin{array}{|c|c|c|} \hline (12) & (13) & (14) \\ \hline \end{array}}$ である.

数学 - II

(1) 実数 p, q が $q \leq \frac{p^2}{4}$ をみたすとき, p, q に関する式

$$|p-1| + |q-1|$$

は, $p = \frac{\boxed{(15)} \boxed{(16)}}{\boxed{(19)} \boxed{(20)}}$, $q = \frac{\boxed{(17)} \boxed{(18)}}{\boxed{(19)} \boxed{(20)}}$ のときに最小値 $\frac{\boxed{(21)} \boxed{(22)}}{\boxed{(23)} \boxed{(24)}}$ をとる.



(2) $a > \frac{1}{4}$ となる定数に対して, 実数 x, y に関する式

$$|2x + y - 1| + |2xy - a|$$

の最小値 m を考えると

(i) $\frac{1}{4} < a < \frac{\boxed{(25)}}{\boxed{(26)}}$ の場合

$$x = \frac{\boxed{(27)}}{\boxed{(28)}}, y = \frac{\boxed{(29)}}{\boxed{(30)}} \text{ のときに } m = \frac{\boxed{(31)} \boxed{(32)}}{\boxed{(35)} \boxed{(36)}} a + \frac{\boxed{(33)} \boxed{(34)}}{\boxed{(35)} \boxed{(36)}}$$

(ii) $a = \frac{\boxed{(25)}}{\boxed{(26)}}$ の場合

$$x = \frac{\boxed{(27)}}{\boxed{(28)}}, y = \frac{\boxed{(29)}}{\boxed{(30)}} \text{ または } x = \frac{\boxed{(37)}}{\boxed{(38)}}, y = \frac{\boxed{(39)}}{\boxed{(40)}} \text{ のときに } m = \frac{\boxed{(41)} \boxed{(42)}}{\boxed{(41)} \boxed{(42)}}$$

(iii) $a > \frac{\boxed{(25)}}{\boxed{(26)}}$ の場合

$$x = \frac{\boxed{(43)} \boxed{(44)}}{\boxed{(45)} \boxed{(46)}} \sqrt{a}, y = \frac{\boxed{(47)} \boxed{(48)}}{\boxed{(47)} \boxed{(48)}} \sqrt{a} \text{ のときに } m = \frac{\boxed{(49)} \boxed{(50)}}{\boxed{(49)} \boxed{(50)}} \sqrt{a} + \frac{\boxed{(51)} \boxed{(52)}}{\boxed{(49)} \boxed{(50)}}$$

となる.

数学 - III

実数 x に対して, $[x]$ は x 以下の最大の整数とする. 数列 $\{a_n\}$ と $\{b_n\}$ を

$$a_1 = 1, \quad a_{n+1} = a_n + \left[\sqrt{n+1} \right] \quad (n = 1, 2, 3, \dots)$$

$$b_1 = 1, \quad b_{n+1} = b_n + (-1)^n \left[\sqrt{n+1} \right] \quad (n = 1, 2, 3, \dots)$$

で定義すると

(1) $a_{10} = \boxed{(53)} \boxed{(54)}$, $b_{10} = \boxed{(55)} \boxed{(56)}$ である.

(2) $a_n \geq 100$ となるのは $n \geq \boxed{(57)} \boxed{(58)}$ のときである.

(3) $b_n = 5$ となる最初の項は $n = \boxed{(59)} \boxed{(60)}$ のときである.

(4) 一般に, $m = \left[\sqrt{n} \right]$ とすると

$$a_n = \frac{\boxed{(61)} \boxed{(62)} m n + \boxed{(63)} \boxed{(64)} m \boxed{(65)} + \boxed{(66)} \boxed{(67)} m^2 + \boxed{(68)} \boxed{(69)} m}{\boxed{(70)} \boxed{(71)}}$$

となる.

数学 - IV

われわれはふだん 10 進法で数をあらわしているが、コンピュータでは 2 進法や 8 進法や 16 進法などもよく用いる。一般に、 n 進法では n 個の数字を使って数をあらわす。 n が 10 以下の場合には、アラビア数字を用いれば良いが、10 を超える場合には、英語のアルファベットを用いることが多い。たとえば、16 進法では、

$$0, 1, 2, 3, 4, 5, 6, 7, 8, 9, A, B, C, D, E, F$$

の 16 個の記号を用い、A, B, C, D, E, F は 10 進法の 10, 11, 12, 13, 14, 15 にそれぞれ対応する。16 進法では桁ごとに 16 倍ずつ大きくなるため、たとえば $7E2$ は、 $7 \times 16^2 + 14 \times 16 + 2$ を計算することで、10 進法の 2018 をあらわしていることがわかる。

以下では、 n 進法で数をあらわしていることを明記するために、 n が 10 以外の場合、 $7E2_{(16)}$ のように (n) を添え字として書くことにする。

- (1) 10 進法の 2018 を 18 進法であらわすと $\boxed{(72)}\boxed{(73)}\boxed{(74)}_{(18)}$ である。
- (2) 10 進法の 1000 を n 進法であらわすと $516_{(n)}$ となったとき、 $n = \boxed{(75)}\boxed{(76)}$ である。
- (3) 8 進法で係数をあらわした 2 次方程式 $x^2 - 22_{(8)}x + 120_{(8)} = 0$ の解は、8 進法で $\boxed{(77)}\boxed{(78)}_{(8)}$ と $\boxed{(79)}\boxed{(80)}_{(8)}$ である (ただし $\boxed{(77)}\boxed{(78)}_{(8)} \leq \boxed{(79)}\boxed{(80)}_{(8)}$ とする)。
- (4) m 進法で係数をあらわした 2 次方程式 $x^2 - 23_{(m)}x + 114_{(m)} = 0$ の解の 1 つが m 進法で $5_{(m)}$ であったとき、 $m = \boxed{(81)}\boxed{(82)}$ であり、この 2 次方程式のもう 1 つの解は m 進法で $\boxed{(83)}\boxed{(84)}_{(m)}$ である。

数学 - V

(1) 3つの直線 $x - y = 1$, $3x - y = 1$, $x + y = 4\sqrt{2} - 1$ で囲まれてできる三角形の内接円の半径は

$\boxed{(85)}\boxed{(86)} + \boxed{(87)}\boxed{(88)}\sqrt{\boxed{(89)}\boxed{(90)}}$ であり, 中心は

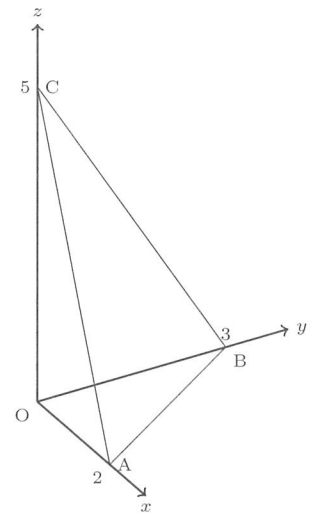
$$\left(\sqrt{\boxed{(91)}\boxed{(92)}} + \boxed{(93)}\boxed{(94)}\sqrt{\boxed{(95)}\boxed{(96)}}, \boxed{(97)}\boxed{(98)} + \boxed{(99)}\boxed{(100)}\sqrt{\boxed{(101)}\boxed{(102)}} \right)$$

である.

(2) xyz 空間において, 原点 O と $A(2, 0, 0)$, $B(0, 3, 0)$, $C(0, 0, 5)$ を結ん

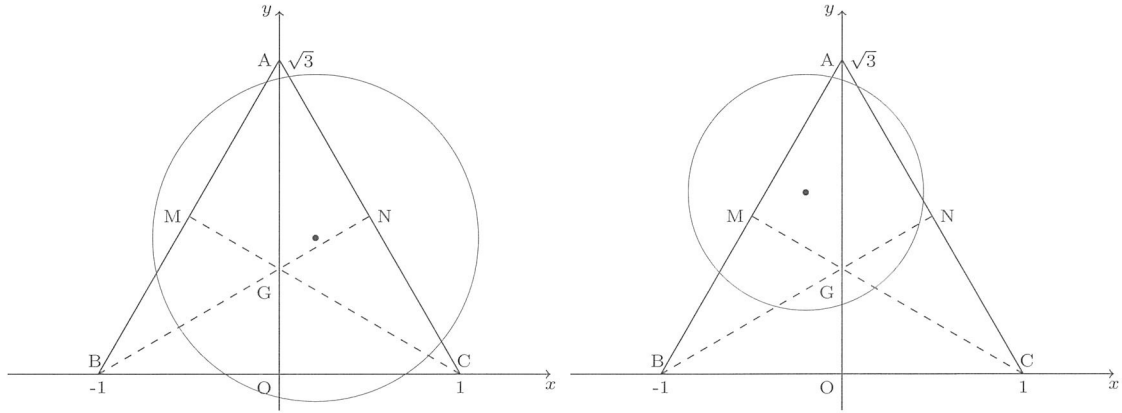
でできる四面体の体積は $\boxed{(103)}\boxed{(104)}$ であり, 表面積は $\boxed{(105)}\boxed{(106)}$ である. ま

た, この四面体の4つの面に接する球の半径は $\frac{\boxed{(107)}\boxed{(108)}}{\boxed{(109)}\boxed{(110)}}$ である.



数学 - VI

xy 平面において、 $A(0, \sqrt{3})$, $B(-1, 0)$, $C(1, 0)$ を頂点とする正三角形が与えられている。正三角形 ABC の各辺と 2 点で交わる円を考える。ただし、各辺上の 2 つの交点は頂点以外の 2 点とする。正三角形 ABC の辺および内部において、そのような円の中心が存在しうる領域を R , 存在しえない領域を S とする。



正三角形 ABC の重心を G , 辺 AB の中点を M , 辺 CA の中点を N とすると、領域 S のうち、四角形 $AMGN$ に含まれる部分の領域は

$$\left\{ \begin{array}{l} y \geq \frac{\sqrt{\boxed{(111)}\boxed{(112)}}}{\boxed{(113)}\boxed{(114)}} \left(x \boxed{(115)} + \boxed{(116)}\boxed{(117)} \right) \\ y \leq \sqrt{\boxed{(118)}\boxed{(119)}} \left(x + \boxed{(120)}\boxed{(121)} \right) \\ y \leq -\sqrt{\boxed{(122)}\boxed{(123)}} \left(x + \boxed{(124)}\boxed{(125)} \right) \end{array} \right.$$

とあらわされ、その面積は $\boxed{(126)}\boxed{(127)} + \boxed{(128)}\boxed{(129)} \sqrt{\boxed{(130)}\boxed{(131)}}$ である。したがって、領域 S の面積はその $\boxed{(132)}\boxed{(133)}$ 倍である。